

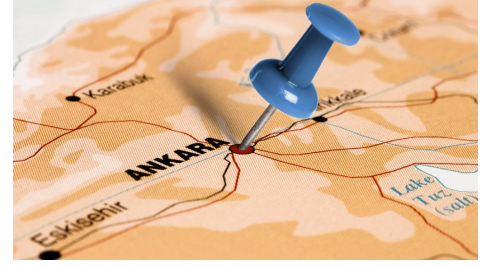


BİR YERİN KONUMU

 **Konum:** Bir varlığın veya yerleşim yerinin bulunduğu yere **konum** denir. Evimizin bulunduğu yer, oturduğumuz sıra bizim konumumuzdur.

 **Yön:** Bir varlığın konumumuza göre tarafına ya da yerine **yön** denir.



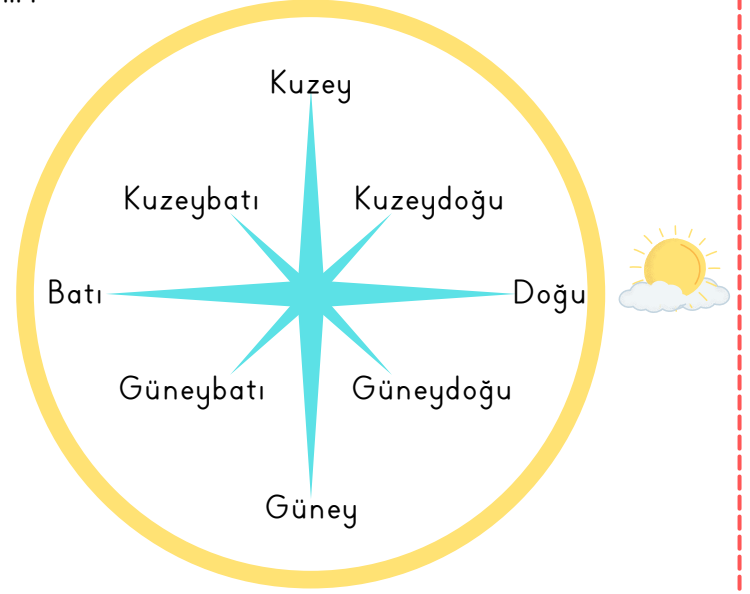
Yönler Güneş'in doğuş ve batışına göre belirlenir.

Dört ana yön vardır:

1. Doğu
2. Batı
3. Kuzey
4. Güney

Dört ara yön vardır:

1. Kuzeydoğu
2. Kuzeybatı
3. Güneydoğu
4. Güneybatı



Güneş'in doğduğu yöne doğu, battığı yöne batı deriz. Yüzümüzü doğuya döndüğümüzde sol tarafımız kuzey, sağ tarafımız güney, arkamız da batı olur.

Yönümüzü bulmak için bazı araç ve yöntemleri kullanırız.

- Pusulanın renkli ucu her zaman kuzeyi gösterir.
- Güneş'in doğduğu yöne doğu, battığı yöne batı deriz.
- **Ağaç yosunları** genellikle **kuzey** tarafta olur.
- **Karınca yuvalarının** girişi her zaman **güneyi** gösterir.
- **Kuyruklu Yıldız**, her zaman **kuzeyi** gösterir.
- GPD geliş teknoloji ile konumu en net bulmamıza yarayan teknolojidir.
- Kroki bir yerin kuşbakışı görünümünün göz kararı küçültülerek geometrik şekiller kullanılarak kabaca çizilmesidir.

Bir yerin konumunu belirtirken yukarıdaki araç ve yöntemleri kullanabileceğimiz gibi bazen de doğal ve beşeri unsurlardan da yararlanırız.

Örnek:

Okul, marketin kuzeyinde...

Hastane okulun 250 m batısında...

Adana, Mersin'in doğusunda...

Siirt ilinin kuzeyindeki iller...

~~Evimiz, nehrin batısında... gibi ifadelerle bir varlığın veya yerin konumunu tarif edebiliriz.~~

Aşağıda verilen cümlelerden doğru olanların yanındaki kutucuğu yeşile, yanlış olanların yanındaki kutucuğu kırmızıya boyayınız.



Yüzümüzü doğuya döndüğümüzde sol tarafımız kuzeyi gösterir.



Yönümüzü bulmak için sadece GPS cihazını kullanmalıyız.



Dört ana, dört de ara yön olmak üzere toplam sekiz yön vardır.



Karınca yuvalarının girişi kuzey yönünü gösterir.



Yüzümüzü kuzeye döndüğümüzde arka tarafımız doğuyu gösterir.

Aşağıdaki soruları dikkatle okuyunuz. Doğru yanıtı işaretleyiniz.

1. Aşağıdakilerden hangisi ana yönlerden birisi değildir?

- A) Doğu
- B) Batı
- C) Kuzey
- D) Güneydoğu

2. Yönümüzü bulmak için aşağıdaki yöntemlerden hangisini kullanmayız?

- A) Suyun akış yönünü
- B) Karınca yuvalarını
- C) Pusula
- D) Kutup Yıldızı'nı

3. Yüzümüzü batıya döndüğümüzde sol tarafımız hangi yönümüzü gösterir?

- A) Güney
- B) Güneydoğu
- C) Kuzey
- D) Kuzeydoğu

4. Aşağıdaki yön bulma yöntemlerinden hangisi güneyi gösterir?

- A) Güneş'in doğduğu yer.
- B) Ağaçlardaki yosunlar.
- C) Pusulanın renkli ucu.
- D) Karınca yuvalarının girişi.